

## L Í N G U A P O R T U G U E S A

### Texto I

#### O pior é que os pais são cúmplices (Fragmento de entrevista)

(1) Faixa-preta no caratê, a americana Rosalind Wiseman dava aulas de defesa pessoal para garotas em Washington, capital dos Estados Unidos, quando se impressionou com as conversas das adolescentes sobre os constantes abusos físicos e psicológicos que sofriam ou infligiam a colegas na escola, o *bullying*. Interessou-se pelo assunto, aprofundou as conversas e hoje é uma das maiores especialistas nesse triste fenômeno. (...)

(2) **O *bullying* está fugindo ao controle dos pais e das escolas?** Conflitos em que ocorre abuso de poder e força para demarcar território são tão antigos quanto a própria espécie humana. Não estamos, portanto, diante de um fenômeno moderno, como alguns apregoam. Por outro lado, há, sim, certos aspectos da sociedade em que vivemos que conferem ao *bullying* feições particularmente cruéis, e é isso que o torna mais difícil de ser controlado. A principal mudança está na internet, com a qual a atual geração de crianças e adolescentes mantém uma relação quase que visceral. É justamente ali, onde constroem sua identidade e seus laços de amizade, que eles começam a se ver alvo de humilhações capazes de se difundir por toda a escola em questão de horas. O problema passa a ganhar uma escala que nunca teve antes, enchendo a vítima de vergonha, solidão e medo. Os pais e os educadores, por sua vez, são frequentemente tomados de um sentimento de profunda impotência que os mantém paralisados.

(3) **A senhora está dizendo que as escolas não estão sabendo lidar com os casos de *bullying*?** Minha experiência mostra que a maioria não encara esse problema como sendo também seu, prova de uma visão ainda antiquada sobre a educação. Nos últimos anos, a internet demoliu certas fronteiras físicas de forma avassaladora, como a que separava a casa da escola, mas muitos educadores continuam alheios a isso. Eles se esquivam de suas responsabilidades, limitando-se a dizer apenas que "o caso não aconteceu dentro da sala de aula, me desculpe, estamos de mãos atadas". Pois, ao ignorarem a questão, dão sinal verde para que os agressores sigam adiante, seguros, e com razão, de que não serão punidos. Aqueles que são alvo das intimidações passam a odiar profundamente o colégio, onde não recebem o mais básico: segurança. Ouço muito nas escolas que elas estão, sim, em plena cruzada de combate ao *bullying*. Mas isso não costuma se traduzir em nada verdadeiramente efetivo. Toda essa discussão acaba por chamar atenção para uma enorme fragilidade que vejo na instituição escolar, nos Estados Unidos e em outros países. (...)

(4) **Os próprios pais acabam sendo condescendentes com o *bullying*?** Exatamente isso. Existe um grupo, e com certeza não é pequeno, de pais que se arvoram em defesa dos filhos incondicionalmente, qualquer que seja a situação, ainda que às vezes não tomem consciência disso. Alguns até bradam: "Quem se meter com meu filho está se metendo comigo também". É um instinto de proteção cego, irracional. Mesmo alertados pela escola e por outros pais, eles se recusam a ver e a ouvir o óbvio. Estão se furtando assim à tarefa de dar uma boa educação aos filhos.

(5) **Como deveriam agir nesses casos?** Como adultos. Eles devem não só assumir como enfatizar o problema, advertindo a criança, punindo-a prontamente quando preciso e procurando a escola, se esse for o caso. É básico, mas não tão comum. Vou além na crítica que faço. Muitos pais acabam não apenas agindo como cúmplices juvenis de seus filhos como também dando o mau exemplo em casa. Depois de tantos anos nesse campo, estou convencida de que tratar mal o outro, tentando se sobrepor à base da força e do medo, não é apenas um instituto humano, mas também um comportamento cultivado e assimilado socialmente.

(6) **Como isso ocorre?** Não é tão óbvio, mas sutil. Observando as famílias das crianças que costumam liderar o *bullying*, descobri um padrão comum à maioria. Em geral, elas vêm de ambientes em que os próprios pais não lidam bem com as diferenças. Costumam supervalorizar características físicas e psicológicas universalmente aceitas e desconfiar de quem destoa delas. Eles reforçam, por exemplo, o ideal de magreza que tanto preocupa as crianças e adolescentes de hoje - inclusive os magros que querem ficar cada vez mais esbeltos. É curioso que esse tipo de manifestação preconceituosa aparece até mesmo naquelas famílias de gente muito lúcida, de forma quase invisível. Mas a mensagem está lá. O *bullying* nada mais é do que uma demonstração exacerbada da aversão às diferenças. Escuto muito pais criticando uns aos outros. É como um esporte nacional. Está claro que falta um olhar mais realista sobre si próprios. (...)

(7) **Por que eleger o universo feminino como campo de estudo de seu primeiro livro sobre o assunto?** As meninas podem ser mais cruéis entre si do que os garotos. Elas têm uma compreensão muito clara sobre como a outra se sente e, com isso, conseguem ferir-se com requintes de maldade. Na adolescência, criam uma severa hierarquia no grupo, pautada por aquilo que vestem e possuem e também pela maneira como se expressam e se posicionam. São regras invisíveis, que se fazem perceber da pior forma possível - quando alguém as quebra e é punido por isso. As meninas se policiam umas às outras o tempo todo e costumam ser implacáveis com quem transgredir. Praticam uma agressão de fundo mais psicológico, mas profundamente dolorosa, segundo relatos que venho colhendo ao longo desses anos de trabalho nas escolas. Muitas pessoas ainda se espantam quando trato dessas coisas. Preferem trilhar o caminho mais fácil, o do politicamente correto, a falar abertamente e ajudar.

WEINBERG, Mônica. O pior é que os pais são cúmplices. *Veja*, São Paulo, v. 45, n. 9, p. 17 e 20-21, fev. 2012. Entrevista. (Adaptado).

01. Assinale a alternativa que **MELHOR** registra o tema central da entrevista.

- a) O abuso sexual que as alunas de aulas de defesa pessoal sofriam nas escolas.
- b) Uma avaliação crítica das atitudes da escola e dos pais em relação aos jovens que praticam *bullying*.
- c) As regras utilizadas para prevenir e minimizar os efeitos do *bullying*.
- d) Os desdobramentos do *bullying* na internet.
- e) A falta de compromisso das escolas quanto ao combate ao *bullying*.

02. Com a resposta registrada no sexto parágrafo da entrevista, Rosalind Wiseman procura:

- a) dissociar a prática do *bullying* de influências mesológicas.
- b) enfatizar que o *bullying* está associado apenas a influências do meio.
- c) reforçar a ideia de que os pais devem punir os filhos que praticam *bullying*.
- d) defender a tese de que somente a sólida educação familiar poderá eliminar definitivamente o *bullying*.
- e) desenvolver a ideia de que o *bullying* é mais do que um instinto humano.

03. Leia as afirmativas abaixo.

- I) O *bullying* é um fenômeno que surgiu no mundo moderno em razão do uso da internet.
- II) Os pais e educadores ficam paralisados porque a vítima do *bullying* sente vergonha e medo.
- III) As meninas percebem mais aguçadamente as fraquezas umas das outras, levando-as a praticar um *bullying* de natureza psicológica.
- IV) A maioria das escolas percebe o *bullying* como um problema educacional.

Agora marque a alternativa **CORRETA**.

- a) Todas as afirmativas são falsas.
- b) Somente as afirmativas I e II são verdadeiras.
- c) Somente a afirmativa III é verdadeira.
- d) Somente a afirmativa IV é verdadeira.
- e) Somente as afirmativas I e IV são verdadeiras.

04. A substituição do segmento grifado por um pronome foi realizada de modo **INCORRETO** em:

- a) “aprofundou as conversas” (§ 1) – aprofundou-as.
- b) “demoliu certas fronteiras físicas” (§ 3) – demoliu-as.
- c) “enfatizar o problema” (§ 5) – enfatizá-lo.
- d) “liderar o bullying” (§ 6) – liderá-lo.
- e) “reforçam o ideal de magreza” (§ 6) – reforçam-lhe.

05. Leia o seguinte segmento: “(...) Preferem trilhar o caminho mais fácil, o do politicamente correto, a falar abertamente e ajudar” (§ 7).

Assinale a alternativa em que o verbo *preferir*, considerando a norma culta da língua escrita, constrói-se com regência idêntica à do segmento:

- a) O candidato à vaga de emprego prefere mil vezes ser escolhido para o setor financeiro do que para o setor de vendas.
- b) A se apresentar malvestida, prefere não ir à festa de aniversário.
- c) A criança prefere mais o refrigerante do que um suco natural.
- d) Durante a festa, o jovem preferiu beber champagne.
- e) O candidato à prefeitura prefere mais fazer a campanha na cidade à ir para o interior.

06. Leia as seguintes frases e coloque V (verdadeiro) e F (falso), conforme a regência da norma culta da língua escrita.

- ( ) Os funcionários grevistas chegaram hoje em Brasília.
- ( ) O médico, no hospital, assiste o doente.
- ( ) A filha lembrou da data do aniversário de seu pai.
- ( ) Na cerimônia religiosa, o padre aludiu ao episódio bíblico da boa samaritana.
- ( ) É agradável aspirar o aroma das flores no jardim.
- ( ) O estudante convidou uma colega de classe para assistir o filme Titanic.

Agora marque a alternativa **CORRETA**.

- a) V - V - F - V - F - V
- b) F - F - V - V - F - F
- c) F - V - F - V - V - F
- d) V - V - F - F - V - F
- e) F - F - F - V - F - V

07. Leia o seguinte segmento: “Aqueles que são alvo das intimidações passam a odiar profundamente o colégio, onde não recebem o mais básico: segurança” (§ 3). A regência verbal estaria comprometida se, em vez da oração grifada, a entrevistada registrasse:

- a) no qual estudaram durante muito tempo.
- b) cujos professores desconsideram o *bullying*.
- c) em que há muitos casos de *bullying*.
- d) ao qual frequentaram por muito tempo.
- e) de onde acabam querendo sair.

08. Leia o segmento: “Rosalind Wiseman dava aulas de defesa pessoal para garotas em Washington, capital dos Estados Unidos, (...)” (§ 1).

Nesse segmento, o autor utilizou a vírgula pelo mesmo motivo por que usaria na frase abaixo:

- a) Olha, Paula, você vai me dar uma caixa de chocolates no dia de meu aniversário.
- b) Enquanto o namorado pescava, Laura ficava pintando a paisagem.
- c) Quando o inverno chegar, compraremos agasalhos.
- d) Pelé, o rei do futebol, continua em evidência na mídia.
- e) Se você comprar o livro, leve-o para a escola amanhã.

Leia o seguinte texto:

## Texto II

### Tempos ansiosos?

(1) Saber lidar com as preocupações se tornou uma característica desejada, porque a ansiedade foi relegada ao posto de vilã do mundo moderno. Apesar de ser essencial para a sobrevivência, ela ganhou o estigma de atrapalhar as relações pessoais, a competência no trabalho e todo tipo de situação delicada. “Se o candidato não consegue dominar a ansiedade na hora da seleção de emprego, já questionamos como ele agirá no ambiente de trabalho”, diz Adriana Vilela, analista de recursos humanos da RHBrasil, empresa que recruta candidatos para o mercado de trabalho. É muito comum, aliás, as pessoas reclamarem que são ansiosas demais e os especialistas chamarem os nossos tempos de “era da ansiedade”.

(2) Mas essa noção de que vivemos numa época especialmente estressante é coisa ultrapassada, na verdade. A ideia de “era da ansiedade” nasceu antes da internet e do computador. Apareceu pela primeira vez em 1947, num poema do inglês Wystan Hugh Auden, que, desiludido com a humanidade depois da 2ª Guerra Mundial, criticou o homem e sua busca sem sentido por significado. Desde então, há pelo menos uma obra por década que afirma que o ser humano está passando pelos tempos mais difíceis de sua história e que, coitados de nós, sofremos demais com a ansiedade. Na década de 1950, a 2ª Sinfonia do músico americano Leonard Bernstein foi chamada de “era da ansiedade”. Além disso, há quase 4 mil trabalhos acadêmicos que usam essa expressão como base teórica – de dissertações sobre religião a doutorados em farmacologia. Parece que a ansiedade está intrinsecamente ligada à noção de modernidade. Mas será que há realmente épocas mais ansiosas do que outras?

(3) “É impossível dizer que somos mais preocupados hoje em dia, porque não tínhamos tantos indicadores antigamente. E não podemos nos esquecer que vivemos hoje num tempo onde a psicologia e a psiquiatria têm um papel muito importante”, diz o professor de sociologia da Universidade de Kent, Iain Wilkinson, que também escreveu um livro sobre o assunto. Antes da ascensão da psicologia, no começo do século 20, ninguém tinha o hábito de pensar em seus problemas mentais e todos os distúrbios espirituais eram tratados como doença.

HUECK, Karin. Ansioso, eu? – Tempos ansiosos? *Super Interessante*, São Paulo, v. 22, n. 11, p. 70-71, nov. 2008.

09. De acordo com o texto, pode-se afirmar que:

- a) a pessoa com muitas preocupações não tem oportunidade no mercado de trabalho.
- b) o candidato ansioso desenvolverá um bom trabalho em seu emprego.
- c) no mundo moderno, a ansiedade é vista como um malefício.
- d) somente o candidato que domina a ansiedade será aprovado na seleção de emprego.
- e) a partir do século 20, todos os distúrbios espirituais passaram a ser tratados como doença.

10. Assinale a alternativa **CORRETA**, conforme o texto.

- a) O computador e a internet surgiram concomitantes à “era da ansiedade”.
- b) A expressão “era da ansiedade” apareceu pela primeira vez na 2ª Sinfonia do músico americano Leonard Bernstein.
- c) Somente as dissertações sobre religião e os doutorados em farmacologia usam a expressão “era da ansiedade” como base teórica.
- d) Segundo Iain Wilkinson, não se pode comparar o nível de preocupação do homem moderno com o de antigamente, pois antes havia menos indicadores.
- e) Não há registros de que nas últimas décadas tenham surgido trabalhos em que os autores trataram da ansiedade.

11. Leia o segmento do texto: “Apesar de ser essencial para a sobrevivência, ela ganhou o estigma de atrapalhar as relações pessoais, a competência no trabalho e todo tipo de situação delicada” (§ 1).

A parte grifada expressa uma relação semântica de:

- a) oposição.
- b) consequência.
- c) causa.
- d) fim.
- e) condição.

12. Leia o seguinte trecho: “Desde então, há pelo menos uma obra por década que afirma que o ser humano está passando pelos tempos mais difíceis de sua história e que, coitados de nós, sofremos demais com a ansiedade” (§ 2).

Assinale a alternativa **CORRETA** em que a forma verbal está sendo usada no mesmo sentido da forma verbal grifada e de acordo com a norma culta da língua escrita.

- a) Deve existir muitas razões para Maria desistir da compra do imóvel.
- b) No Brasil, existe milhões de pessoas vivendo em extrema pobreza.
- c) Nas escolas brasileiras, podem existir crianças que não aprendem a ler.
- d) Na reunião do sindicato, houveram pessoas que não concordaram com a decisão.
- e) No fundo do mar, podem haver espécies de peixes que ainda são desconhecidas.

13. Leia o seguinte texto:

“A internet e a TV são um prato cheio para causar ansiedade. Há tanta coisa acontecendo ao redor do mundo que fica difícil acompanhar todas as notícias. Achar tempo para pensar e formar opiniões sobre todos os assuntos é impossível – e frustrante”.

HUECK, Karin. Ansioso, eu? – Tempos ansiosos? *Super Interessante*, São Paulo, v. 22, n. 11, p. 71, nov. 2008.

A expressão grifada exemplifica o uso da seguinte figura de linguagem:

- a) metonímia
- b) pleonasma
- c) inversão
- d) eufemismo
- e) metáfora

14. Coloque V (verdadeiro) ou F (falso), considerando as normas de ortografia.

- ( ) O eminente escritor recebeu um prêmio recentemente.
- ( ) A catástrofe torna-se iminente.
- ( ) Por quê você não leva em consideração o que lhe digo?
- ( ) A sessão de terras compete ao Estado.
- ( ) A justiça infligiu a pena máxima ao assassino.
- ( ) A cessão do cinema durou 2 horas.

Agora, marque a alternativa **CORRETA**.

- a) V - F - V - F - V - F
- b) F - V - F - F - V - V
- c) V - V - F - F - V - F
- d) F - V - F - V - F - F
- e) V - F - V - V - F - F

15. Coloque V (verdadeiro) ou F (falso), considerando a adequação às normas de concordância.

- ( ) Aluga-se apartamentos na praia.
- ( ) Os pareceres da comissão examinadora seguem anexo ao documento.
- ( ) Grande parte dos estudantes faltou às aulas após o feriado.
- ( ) Vinte por cento dos eleitores se absteve de votar nas últimas eleições para prefeito.
- ( ) Mais de cinco pessoas perderam dinheiro no jogo.
- ( ) Não viu a placa? É proibida entrada.

Agora, marque a alternativa **CORRETA**.

- a) V - F - V - F - F - V
- b) F - V - V - V - F - F
- c) V - F - F - V - F - V
- d) F - F - V - F - V - F
- e) F - F - V - V - F - F

## RACIOCÍNIO LÓGICO-QUANTITATIVO

Leia o seguinte texto:

O etilômetro, popularmente conhecido como bafômetro, é um aparelho utilizado para medir a quantidade de álcool presente no organismo de uma pessoa. A bebida alcoólica ingerida é rapidamente absorvida pelo estômago, cai na corrente sanguínea e passa em forma de vapor para os pulmões. Ao soprar o bafômetro, o álcool expirado reage com o oxigênio presente no aparelho; essa reação libera ácido acético, íons de hidrogênio e elétrons. Os elétrons passam por um fio condutor, gerando corrente elétrica. Quanto mais álcool, maior a corrente: um *chip* presente no aparelho faz as contas e dá a concentração de álcool no sangue. No entanto, a saída do álcool do organismo se dá em um processo bem mais longo do que o da ingestão. Veja quanto tempo, em média, uma dose das seguintes bebidas leva para desaparecer do corpo de uma pessoa:

Um copo de cerveja (350 ml) - 1 hora  
Uma dose de uísque (50 ml) - 1 h e 15 min  
Uma dose de vinho (150 ml) - 1 h e 25 min

Disponível em: <<http://super.abril.com.br/tecnologia/como-funciona-bafometro-447645.shtml>>. Acesso em: 8 abr. 2012. Adaptado.

16. Considerando que a informação anterior seja precisa e que a ingestão de mais de uma dose seja cumulativa para desaparecer do organismo, pode-se afirmar:

- a) Uma pessoa que ingeriu uma dose de uísque (50ml cada dose) e um copo de cerveja (350ml cada copo) e fez o teste 2 horas depois não foi pego pelo bafômetro.
- b) Uma pessoa que ingeriu um copo e meio de cerveja (350ml cada copo) e fez o teste 1 (uma hora) e 40 minutos depois não foi pego pelo bafômetro.
- c) Uma pessoa que ingeriu uma dose de vinho (150ml cada dose) e uma dose de uísque (50ml cada dose) e fez o teste 3 horas depois foi pego pelo bafômetro.
- d) Uma pessoa que ingeriu 2 (duas) doses de vinho (150ml cada dose) e um copo de cerveja (350ml cada copo) e fez o teste 3 horas e meia depois não foi pego pelo bafômetro.
- e) Uma pessoa que tomou 2 (duas) doses de uísque (50ml cada dose) e fez o teste 3 horas depois foi pego pelo bafômetro.

17. João recebeu uma indenização no valor de R\$ 8.000,00. Para investir esse dinheiro, ele avaliou duas possibilidades:

- I) Depositar o dinheiro recebendo juros compostos mensais de 2%, durante 4 meses.
- II) Aplicar o dinheiro recebendo juros de 7% sobre o valor total, ficando o dinheiro retido por 3 meses.

Quais os juros aproximados a serem recebidos nas alternativas I e II, respectivamente?

- a) R\$ 659,00 e R\$ 560,00
- b) R\$ 659,00 e R\$ 1.680,00
- c) R\$ 640,00 e R\$ 560,00
- d) R\$ 6.590,00 e R\$ 5.600,00
- e) R\$ 6.400,00 e R\$ 5.600,00

18. Um encanador pretende entrar em um elevador, cujo formato é de um prisma reto, carregando um cano não flexível. Sabendo que o elevador tem 2 metros de altura, 1 metro de largura e 2 metros de profundidade, a maior medida possível desse cano é:

- a) 2 m.
- b) 3 m.
- c) 4 m.
- d) 5 m.
- e)  $\sqrt{5}$  m.

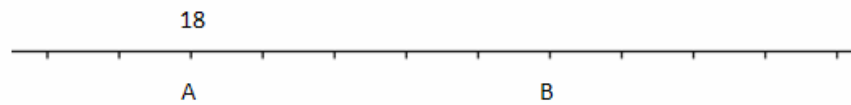
19. A tabela, a seguir, informa a quantidade de cestas de dois pontos feitas por 5 jogadores em um torneio de basquete:

Nome do jogador	Total de acertos	Total de arremessos
Gustavo	24	40
Vinícius	32	60
Paulo	15	30
Ricardo	10	50
Pedro	21	30

O treinador toma como referência o registro para avaliar o índice de acerto de seus jogadores. De acordo com a tabela, o jogador que apresentou melhor resultado de acertos em relação ao número de arremessos foi:

- a) Gustavo.
- b) Vinícius.
- c) Paulo.
- d) Ricardo.
- e) Pedro.

20. A figura representa parte de um mapa onde se localiza uma estrada que liga as cidades A e B. Os números mostrados no mapa representam as distâncias entre as cidades e o ponto de início dessa estrada, em Km, e que não aparece na figura. Os traços na figura estão uniformemente espaçados em 1 cm.



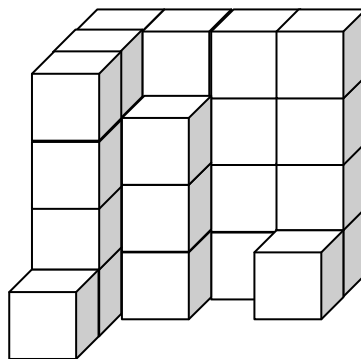
Sabendo que o mapa foi construído na escala 1:420000, a distância da cidade B até o início da estrada, em Km, é aproximadamente:

- a) 100.
- b) 42.
- c) 96.
- d) 960.
- e) 420.

21. A operação de troca entre moedas de dois países é denominada câmbio. Considerando que uma pessoa que tem 1.000 reais queira comprar dólares para fazer uma viagem internacional e sabendo que a cotação do dólar no dia de hoje está em R\$ 2,02, a quantidade de dólares que será possível comprar é:

- a) 500.
- b) 2.020.
- c) 495.
- d) 202.
- e) 1.000.

22. Sr. Ernesto é dono de uma fábrica de doces. Ele precisa proceder à contagem das caixas de matéria-prima de seu estoque, porém a porta de entrada do depósito travou e não é possível abri-la. Lembrou-se, entretanto, da câmera de segurança que fica instalada acima da porta de entrada. Foi até o monitor e a imagem que ele teve foi a seguinte:



O empilhamento era sempre feito da mesma forma, tendo 4 caixas de altura, 4 de profundidade e 4 de largura. Com essa informação, o Sr. Ernesto fez o pedido para completar seu estoque novamente. Considerando que ele pagou R\$ 50,00 por caixa do produto, pode-se afirmar que ele gastou:

- a) R\$ 1.450,00.
- b) R\$ 1.750,00.
- c) R\$ 1.950,00.
- d) R\$ 2.150,00.
- e) R\$ 2.350,00.



23. Analisando as inscrições do vestibular de Engenharia de uma Universidade em que os candidatos tinham de optar entre os cursos de Engenharia Civil ou Engenharia Elétrica, constatou-se que:

- 80% dos candidatos optaram pela Engenharia Civil.
- 70% dos candidatos eram do sexo masculino.
- 50% dos candidatos às vagas do curso de Engenharia Elétrica eram do sexo masculino.
- 500 mulheres optaram pelo curso de Engenharia Elétrica.

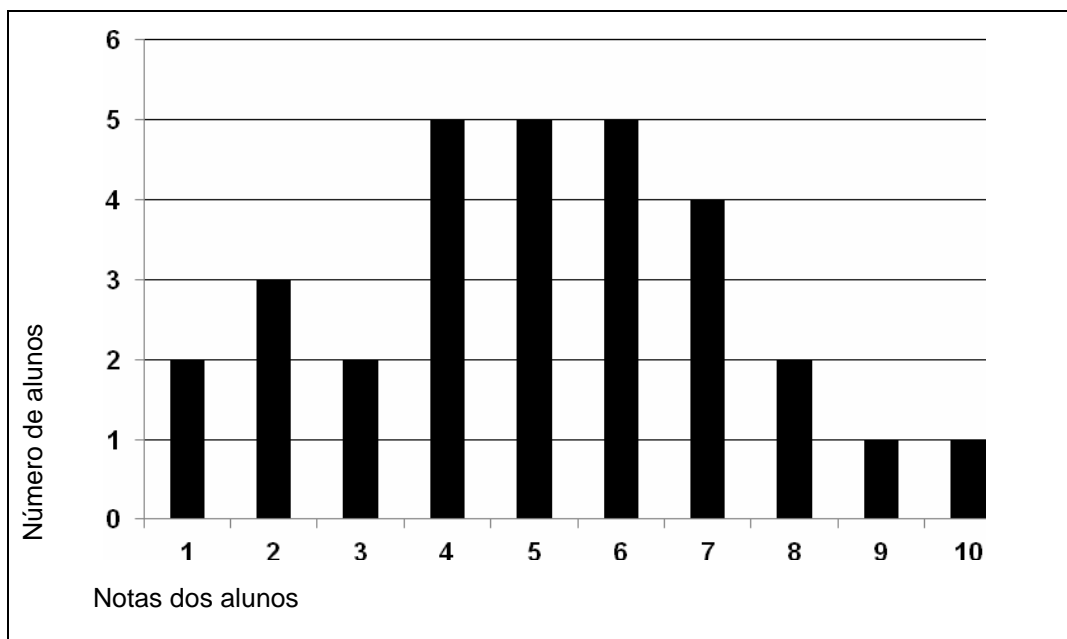
O número de candidatos do sexo feminino ao curso de Engenharia Civil é:

- a) 3.000.
- b) 1.600.
- c) 2.400.
- d) 2.500.
- e) 1.000.

24. As medidas dos lados de um triângulo retângulo estão em uma progressão aritmética de razão 3. A soma das medidas dos lados desse triângulo é:

- a) 9.
- b) 12.
- c) 15.
- d) 27.
- e) 36.

25. Uma professora propôs aos seus alunos um desafio com premiação. O presente seria sorteado entre os alunos que obtivessem nota maior do que 7. Observe o gráfico construído pela professora e marque qual a probabilidade de um aluno ser sorteado ao acaso para receber o presente.



- a)  $1/4$
- b)  $2/15$
- c)  $1/30$
- d)  $4/15$
- e)  $1/2$

26. O menor ângulo formado entre o ponteiro das horas e o ponteiro dos minutos de um relógio, quando este marca 4h 53 min, é:

- a)  $181^{\circ}30'$
- b)  $180^{\circ}30'$
- c)  $179^{\circ}$
- d)  $171^{\circ}30'$
- e)  $171^{\circ}$

27. Ana está desempregada e, ao passar de ônibus pelo centro da cidade, viu um anúncio de emprego. Ela anotou rapidamente parte do número, mas não conseguiu visualizar os dois últimos dígitos. Ainda assim, ao chegar a sua casa, decidiu que faria a ligação. Antes, porém, quis saber se teria que fazer muitas tentativas e fez os cálculos. Qual a quantidade máxima de possibilidades para que esses dois últimos dígitos sejam preenchidos?

- a) 20
- b) 50
- c) 81
- d) 100
- e) 120

28. Ao ingressar na Universidade, Letícia recebeu de seus pais duas opções de mesada:

**Opção A:** 150 reais fixos e, em todos os meses, mais 40 reais do que o recebido no mês anterior;

**Opção B:** 300 reais fixos e, em todos os meses, mais 25 reais do que o recebido no mês anterior.

Supondo que Letícia receberá a mesada a partir do mês de janeiro, o mês em que será indiferente a opção de Letícia, ou seja, que ela receberia o mesmo valor em ambas as opções é:

- a) maio.
- b) julho.
- c) setembro.
- d) outubro.
- e) dezembro.

29. Observe a sequência e identifique a quantidade de quadrados na composição de cada figura.



Figura 1



Figura 2

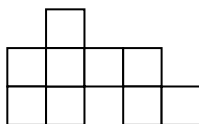


Figura 3




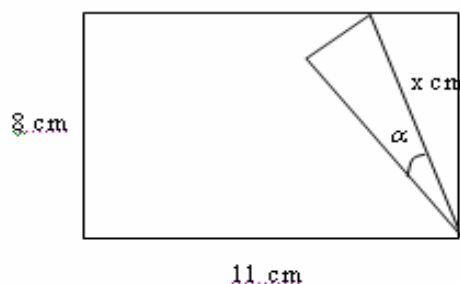
Figura 4

Considerando a manutenção dessa regularidade nas figuras subsequentes, a função que melhor relaciona a quantidade  $y$  de quadrados na composição de cada figura com a posição  $x$  dessa figura é:

- a)  $y = 3x$
- b)  $y = 3^x$
- c)  $y = 3^{x-1}$
- d)  $y = \log_3(x-1)$
- e)  $y = x^3$

30. Uma folha de papel retangular, de dimensões 11 cm por 8 cm, é dobrada, conforme a figura dada. Sobre a medida  $x$  da dobra desse papel, pode-se afirmar que:

Dados:  $\alpha = 30^\circ$ ;  $\text{Sen}30^\circ = \frac{1}{2}$ ;  $\text{Cos}30^\circ = \frac{\sqrt{3}}{2}$ ;  $\text{Tg}30^\circ = \frac{\sqrt{3}}{3}$



- a) é um número inteiro.
- b) é um número irracional maior do que 10.
- c) é um número quadrado perfeito.
- d) é um número irracional menor do que 10.
- e) é uma dízima periódica.

## LEGISLAÇÃO

31. Um determinado Servidor Público, em razão de um mesmo fato ocorrido, responde paralelamente a um processo Administrativo Disciplinar e a um Processo Criminal. Quanto a essa dada situação, julgue os itens a seguir, marcando a opção que corresponda ao seu julgamento, como verdadeiro ou falso.

- 1) Caso o Servidor Público seja absolvido por insuficiência de prova (decorrente do princípio penal de que na dúvida, deve-se absolver o réu), permanece, ainda assim, a punição ao servidor no âmbito administrativo, com base no mesmo fato e nas mesmas provas colhidas.
  - 2) O processo administrativo só pode produzir efeitos punitivos para o Servidor, após a sentença no processo criminal.
  - 3) Caso a justiça absolva o servidor, por entender que o ato praticado não é crime, ainda, assim, a Administração tem o direito de puni-lo no processo administrativo, com base no mesmo fato.
  - 4) Caso o Servidor queira provocar o controle jurisdicional do ato de demissão, deverá valer-se do instrumento do *Habeas corpus*, uma vez que a demissão implica, necessariamente, em restrição ao direito de ir e vir do servidor, impedido de continuar a exercer seu trabalho na repartição.
  - 5) A administração não poderá punir o servidor, caso o mesmo, em sentença penal transitada em julgado, tenha sido absolvido por completa inocência e declaração de inexistência do fato, caso surja prova nova que demonstre o fato proclamado inexistente pelo júízo criminal.
- a) 1-F, 2-F, 3-V, 4-V, 5-V
  - b) 1-V, 2-F, 3-V, 4-F, 5-V
  - c) 1-F, 2-V, 3-F, 4-V, 5-F
  - d) 1-V, 2-V, 3-V, 4-V, 5-F
  - e) 1-F, 2-F, 3-F, 4-F, 5-V

32. Em face dos Princípios Constitucionais da Administração Pública, considere as seguintes afirmativas:

- I) O princípio da impessoalidade impõe que o provimento de cargos públicos se dê por concurso público.
- II) A discricionariedade administrativa não se coaduna com o princípio da legalidade, que exige do Agente Administrativo que atue em conformidade com a Lei.
- III) Do ponto de vista formal, um ato administrativo, editado para favorecimento de pessoa certa e determinada, pode ser legal, mas não passa pelo crivo do princípio da moralidade.
- IV) O princípio da eficiência é desrespeitado caso o gerenciamento de recursos públicos não observe a regra de obter dos mesmos recursos o melhor resultado possível para o interesse público.
- V) A nomeação de parente próximo para cargo de livre nomeação e exoneração só afronta os princípios da Administração Pública se, e somente se, o nomeado não preencher os requisitos exigidos em lei para o referido cargo.

Marque a alternativa **CORRETA**.

- a) Todas as afirmativas são corretas.
- b) Apenas as afirmativas I, II e IV são corretas.
- c) Apenas as afirmativas I, III e IV são corretas.
- d) Apenas as afirmativas I, III e V são corretas.
- e) Apenas as afirmativas II, III e V são corretas.

33. A respeito do processo administrativo, regido pela lei 9874/99, julgue os seguintes itens, marcando a alternativa que corresponda ao seu julgamento, como verdadeiro ou falso.

- 1) O princípio da proporcionalidade exige que a Administração não imponha obrigação, restrição e sanção em limite superior àquelas estritamente necessárias para a satisfação do interesse público.
- 2) Os pressupostos de fato e de direito que fundamentarem a decisão administrativa devem ser indicados, em obediência ao princípio da segurança jurídica.
- 3) O Princípio da informalidade exige que apenas as formalidades suficientes para propiciar o adequado grau de certeza, segurança e respeito aos direitos dos administrados sejam adotadas no processo administrativo.
- 4) Uma vedação expressa da Lei 9874/99, decorrente do princípio da segurança jurídica, é a de que nova interpretação da norma administrativa retroaja.
- 5) É expressamente vedado à Administração obrigar que o Administrado seja representado por Advogado no âmbito administrativo, podendo, entretanto, o Administrado, facultativamente, apresentar-se assistido por um Advogado.

- a) 1-V, 2-F, 3-V, 4-V, 5-F
- b) 1-F, 2-V, 3-F, 4-F, 5-F
- c) 1-V, 2-V, 3-V, 4-F, 5-F
- d) 1-F, 2-F, 3-F, 4-F, 5-V
- e) 1-V, 2-V, 3-V, 4-V, 5-V

34. Nos Procedimentos Administrativos é **CORRETO** afirmar:

- a) Apresentado o recurso administrativo, a decisão administrativa faz coisa julgada, não podendo ser revista nem pela Administração, nem pelo Judiciário.
- b) É lícito às partes confiar sua defesa técnica e legal a contador inscrito regularmente no Conselho de Contabilidade.
- c) O contencioso (ampla defesa e contraditório) pode ser dispensado já que só é obrigatório em procedimentos judiciais.
- d) A parte (o administrado) tem o direito de ser intimada de todo e qualquer ato praticado, ter amplo acesso aos autos, inclusive com fornecimento de cópias, e conhecer dos fundamentos que a Administração utilizou como razão de decidir, podendo dessa decisão apresentar recurso.
- e) O único meio permitido em lei para intimação das partes é por edital publicado em Diário Oficial.

35. Correlacione os poderes administrativos a cada situação apresentada.

- I – Poder disciplinar ( ) delegação de competências, nos termos da lei.  
II – Poder de polícia ( ) restrição a exercício de direitos, por competente limitação.  
III – Poder hierárquico ( ) exoneração para cargo de provimento em comissão.  
IV – Poder discricionário ( ) penalidade imposta em processo administrativo.

Marque a opção **CORRETA**.

- a) I, II, III, IV  
b) II, IV, III, I  
c) IV, I, II, III  
d) II, III, I, IV  
e) III, II, IV, I

## CONHECIMENTOS ESPECÍFICOS

36) São agentes antirretrovirais inibidores da protease:

- a) Nelfinavir, saquinavir e ritonavir  
b) Efavirens, lamivudina e nevirapina  
c) Zidovudina, ganciclovir e delavirdina  
d) Nevirapina, didanosina e zidovudina  
e) Aciclovir, zalcitabina e lamivudina

37) Leia as sentenças abaixo e marque a opção **CORRETA**.

- I) Os benzodiazepínicos podem induzir síndrome de abstinência.  
II) Os benzodiazepínicos potencializam os efeitos depressores do álcool.  
III) O baclofeno pertence à classe dos benzodiazepínicos.  
IV) Alguns benzodiazepínicos são usados como anticonvulsivantes.  
V) Os barbitúricos são usados no tratamento de distúrbios da ansiedade.
- a) I, II e V estão corretas.  
b) II, III e IV estão corretas.  
c) I, II e IV estão corretas.  
d) I, III e IV estão erradas.  
e) III, IV e V estão erradas.

38) Marque a opção **que há** somente fármacos antidepressivos inibidores da monoaminoxidase.

- a) Iproniazida, isocarboxazida e tranilcipromina.  
b) Fenzina, citalopram e fluvoxamina.  
c) Clorgilina, desipramina e biefloxatona.  
d) Clomipramina, amitriptilina e nortriptilina.  
e) Moclobemida, paroxetina e dolantina.

39) O ácido acetilsalicílico é comercialmente conhecido como:

- a) anador.  
b) cataflam.  
c) forflex.  
d) neosaldina.  
e) aspirina.

40) Marque a opção que há inibidor da ECA, beta-bloqueador e antagonista do receptor de angiotensina II, respectivamente.

- a) Propranolol, anlodipina e losartan.
- b) Captopril, nifedipina e atenolol.
- c) Enalapril, atenolol e losartan.
- d) Valsartan, nadolol e captopril.
- e) Clonidina, reserpina e propranolol.

41) Furosemida, clortalidona e espironolactona **SÃO**, respectivamente:

- a) inibidor da anidrase carbônica, tizídico e diurético de alça.
- b) diurético de alça, tiazídico e poupador de potássio.
- c) inibidor da ECA, diurético osmótico e poupador de potássio.
- d) antagonista do receptor beta-adrenérgico, inibidor da anidrase carbônica e inibidor da ECA.
- e) Tiazídico, poupador de potássio e antagonista do receptor alfa-adrenérgico.

42) Com relação ao mecanismo de ação dos agentes alquilantes (antineoplásicos), pode-se afirmar, **EXCETO**.

- a) Formam ligações covalentes com substâncias nucleofílicas nas células.
- b) Formam um íon carbânion que reage com grupos doadores de elétrons.
- c) Podem produzir ligações cruzadas.
- d) Interferem na transcrição e replicação do DNA.
- e) Inibem a diidrofolato redutase.

43) Marque a opção **que há** somente cefalosporina de primeira geração.

- a) Cefmetazol, cefotetana e cefoxitina.
- b) Cefotaxima, ceftriaxona e ceftizoxima.
- c) Cefalexina, cefalotina e cefazolina.
- d) Cefapirina, cefradina e moxalactam.
- e) Ceforanida, cefprozil e cefuroxima.

44) São analgésicos de ação central, **EXCETO**:

- a) Morfina, fentanil e petidina.
- b) Diclofenaco, piroxicam e indometacina.
- c) Meperidina, pentazocina e sufentanil.
- d) Codeína, morfina e dextropropoxifeno.
- e) Dextropropoxifeno, fentanil e meperidina.

45) São nomes comerciais da **dipirona**.

- a) anador e novalgina.
- b) cibalena e neosaldina.
- c) novalgina e feldene.
- d) tylenol e dorflex.
- e) tylex e neosaldina.

46) Foram preparados 1000mL de xarope de sacarose (85%), que apresentava uma densidade igual a 1,313 g/cm<sup>3</sup>. A quantidade de água adicionada (em mililitros) na preparação do xarope foi de:

- a) 926.
- b) 1228.
- c) 647,37.
- d) 1700.
- e) 868.

- 47) A mistura de clorato de potássio com enxofre origina um fenômeno indesejável, que pode manifestar-se por:
- higroscopia.
  - eflorescência.
  - deliquescência.
  - sistema eutético.
  - mistura explosiva.
- 48) São medicamentos que intensificam a queratinização dos epitélios promovendo, por isso, a regeneração da camada córnea, que corresponde à zona celular mais externa da pele. Esses medicamentos são denominados de:
- emolientes.
  - queratoplásticos.
  - antiflogísticos.
  - rebecientes.
  - revulsivos.
- 49) Pretende-se preparar um elixir contendo 120 mL de tintura de *Ginkgo biloba*. Porém a quantidade de tintura é insuficiente. Deseja-se substituí-la pelo extrato fluido. Nesta situação, a quantidade de extrato fluido (em mililitros) a ser empregada deverá corresponder a:
- 15 mL.
  - 20 mL.
  - 24 mL.
  - 30 mL.
  - 35 mL.
- 50) No enchimento de cápsulas contendo 200 mg de carbamazepina, **pode-se** empregar como agente lubrificante:
- Croscarmelose.
  - Carbowax 4000.
  - Parafina.
  - Estearato de Mg.
  - Celulose microcristalina.
- 51) Foi preparada uma solução de cloreto de sódio a 7,8% (PM=58,5g/mol). Sabendo-se que o volume é igual a 2,2L, a quantidade de sal pesada, em termos de molaridade corresponde a:
- 2,78.
  - 2,93.
  - 2,87.
  - 3,87.
  - 2,83.
- 52) Uma suspensão, ao ser agitada, reduz bastante sua viscosidade e, desse modo, permite retirar a dose correta do medicamento. O sistema reológico, que está presente nesta preparação, é do tipo:
- dilatante.
  - pseudoplástico.
  - plástico.
  - newtoniano.
  - tixotrópico

**53)** Ao preparar um xarope de sacarose a 80%, com codeína ou metil morfina (base) a 0,5%, notou-se forte turbidez. Nesse caso, para corrigir a turbidez, **deve-se** adicionar:

- a) 1% de ácido cítrico .
- b) 1% de propilenoglicol.
- c) 1% de álcool etílico.
- d) 1% de citrato de sódio.
- e) 1% de glicerina.

**54)** Cápsulas de gelatina dura, para manterem flexibilidade, apresentam níveis de umidade que não favorecem o crescimento de microrganismos. Logo, estes níveis devem estar dentro da faixa de:

- a) 5-8%.
- b) 4-7%.
- c) 9-12%.
- d) 13-16%.
- e) 15-18%.

**55)** A quantidade a ser adicionada de extrato fluido de camomila para se preparar 650 mL de infuso da mesma planta é:

- a) 45 mL.
- b) 37,5 mL.
- c) 65 mL.
- d) 32,5 mL.
- e) 42,5 mL.

**56)** Para preparar 850 mL de uma solução de NaOH a 1,8M, cujo PM=40 g/mol. Nessa situação, deve ser pesada a quantidade de NaOH igual a:

- a) 31,2g.
- b) 41,2g.
- c) 51,5g.
- d) 61,2g.
- e) 71,5g.

**57)** Um creme contendo 2% de cetoconazol é empregado no tratamento de lesões da pele causadas por fungos. Trata-se de uma emulsão do tipo O/A. Nesse caso, a preparação deve apresentar:

- a) 1 fase.
- b) 2 fases.
- c) 3 fases.
- d) 4 fases.
- e) 5 fases.

**58)** Para preparar uma solução de cloreto de sódio a 0,85%, deve-se pesar 2,55 g de cloreto de sódio e:

- a) dissolver em 20 mL de água destilada.
- b) acrescentar 200 mL de água destilada.
- c) dissolver em 198,3 mL de água destilada.
- d) completar com 100 mL de água destilada.
- e) completar o volume de 300 mL com água destilada.



59) Medicamentos oftálmicos devem:

- a) ser estéreis.
- b) ser apirogênicos.
- c) ser preparados com água bidestilada.
- d) ter ausência de conservante.
- e) ter ausência de endotoxinas.

60) O lote de um produto é a quantidade obtida do mesmo em um único processo e se caracteriza por apresentar:

- a) homogeneidade.
- b) peso padrão.
- c) composição percentual definida.
- d) baixa toxicidade.
- e) heterogeneidade.

61) Foi observado, no fundo do um frasco de medicamento contendo comprimidos, a presença de grande quantidade de pó liberado dos mesmos, indicando inconformidade em relação ao parâmetro físico:

- a) dureza.
- b) desintegração.
- c) dissolução.
- d) reologia.
- e) friabilidade.

62) Na preparação de cápsulas, empregam-se vários excipientes que têm diversas funções como diluentes, absorventes, antioxidantes, lubrificantes dentre outros. Quando se emprega como lubrificante, o estearato de magnésio **não deve** utilizar o fármaco:

- a) fenacetina.
- b) ácido acetilsalicílico.
- c) vitamina D2.
- d) sulfato de quinina.
- e) sulfatiazol.

63) Com relação à administração por via sublingual, marque a opção CORRETA:

- a) É adequada para volumes moderados.
- b) É utilizada para veículos aquosos, não aquosos e suspensões.
- c) Possibilidade de controle de doses para prevenção de efeitos tóxicos.
- d) Redução de biotransformação do fármaco pelo fígado.
- e) Riscos de embolia, irritação do endotélio vascular, ação de pirogênio, infecções por contaminantes bacterianos ou viróticos e reações anafiláticas.

64) Segundo a Portaria Nº 4.052/GM/MS de 23 de dezembro de 1998, são doenças de notificação compulsória, **EXCETO** :

- a) cólera, coqueluche e hanseníase.
- b) dengue, doença de Chagas e sarampo.
- c) diabetes, hipertensão e diarreia
- d) hanseníase, poliomielite e febre amarela
- e) difteria, tétano e tuberculose.

65) Segundo a RDC 67/2007, na farmácia magistral, a cada 6 meses, no mínimo, devem ser feitos testes físico-químicos e microbiológicos para monitorar a qualidade da água de abastecimento, mantendo-se os respectivos registros. As especificações para a água potável devem ser estabelecidas de acordo com a legislação vigente. Dentre as análises físico-químicas, a serem realizadas, podem-se citar algumas, **EXCETO**:

- a) valor de pH.
- b) nitritos.
- c) cloro residual livre
- d) turbidez.
- e) sólidos totais dissolvidos.

66) São princípios ativos utilizados como desinfetante em hospitais, **EXCETO**:

- a) Glutaraldeído.
- b) Hipoclorito.
- c) Álcool 70%.
- d) Iodo.
- e) Hexano.

67) Marque a alternativa que contém uma obrigação do empregador em relação à utilização dos Equipamentos de Proteção Individual (EPIs), conforme regulamentado pelo Ministério do Trabalho e Emprego, por meio da Lei nº 6.514 e da NR-6.

- a) Orientar os funcionários para utilizar os EPIs somente quando tiver fiscalização ou clientes no estabelecimento, com o intuito de se reduzir gastos do material.
- b) Responsabilizar-se pela guarda e conservação dos EPIs e utilizá-los apenas para a finalidade a que se destina.
- c) Adquirir todos os EPIs disponíveis no mercado sem levar em consideração os riscos a que os profissionais estarão sujeitos na rotina diária.
- d) Fornecer os EPIs necessários e substituí-los, imediatamente, quando danificados ou extraviados.
- e) Recomendar o uso de EPIs independente da atividade a ser desenvolvida e da área a ser frequentada (técnica, não-técnica ou de transição).

68) De acordo com as normas de biossegurança, aplicadas a laboratórios analíticos, é **INCORRETO** afirmar que:

- a) devem ser usados dispositivos de pipetagem (pêra de borracha, por exemplo) para que se evite ao máximo a formação de aerossóis.
- b) frascos contendo produtos químicos inflamáveis devem ser cuidadosamente fechados e mantidos a certa distância dos quadros de força.
- c) não é permitida a circulação de estranhos em áreas técnicas sem a devida permissão ou acompanhamento do supervisor.
- d) o uso de jaleco (avental) longo e de calçados fechados é obrigatório ao se trabalhar com substâncias tóxicas.
- e) laboratórios classificados no nível de segurança 1 devem estar providos de instalações e equipamentos para trabalho com microrganismos patogênicos.

69) Considerando as normas de biossegurança laboratorial, é **INCORRETO** afirmar que:

- a) ao se trabalhar com substâncias de média e alta toxicidade o uso de respirador purificador de ar é obrigatório.
- b) os Equipamentos de Proteção Coletiva (EPC) devem ser necessariamente instalados em locais estratégicos, ou seja, de forma a permitir fácil e rápido acesso de qualquer ponto do laboratório analítico.
- c) laboratórios que desenvolvem atividades envolvendo risco químico devem estar sempre equipados com fluxo laminar, independente das classes dos produtos a serem manipulados.
- d) chuveiro ou ducha de segurança e frasco de lavagem ocular são, respectivamente, equipamentos para emergência no caso de derramamento de produto químico no corpo ou em específico nos olhos.
- e) solventes orgânicos devem ser cuidadosamente fechados e mantidos a certa distância dos quadros de força.

**70)** A organização de setores de estocagem ou armazenamento de produtos químicos (almoxarifados) compreende aspectos construtivos e considerações ambientais. Dentre as alternativas abaixo, selecione a que está **de acordo** com os parâmetros para a organização apropriada deste espaço.

- a) É obrigatória a manutenção de inventário (controle de estoque) atualizado dos produtos químicos estocados.
- b) Os produtos químicos devem ser armazenados junto com as vidrarias utilizadas nos laboratórios.
- c) Recomenda-se a utilização de prateleiras largas de madeira para organização dos produtos químicos a serem estocados.
- d) O armazenamento de substâncias químicas deve ser feito por ordem alfabética, independente da compatibilidade entre elas.
- e) A luminosidade deve ser distribuída de forma a incidir diretamente sobre os produtos armazenados.