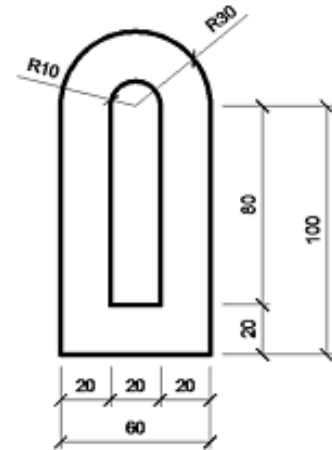
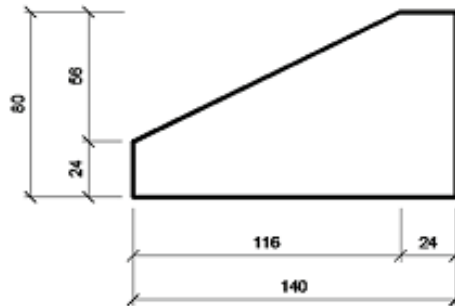
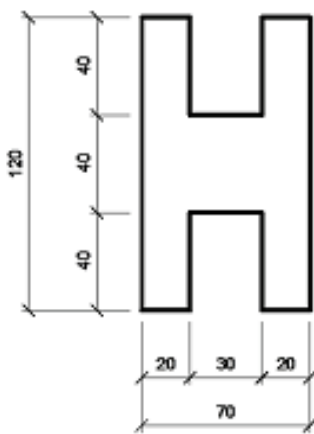


AULA 4a | FOLHA DE EXERCÍCIO

TEMA DOS EXERCÍCIOS: COTAS

- A) Cote as vistas abaixo, seguindo as normas da NBR 10126 – Cotagem em Desenho Técnico:



- B) Agora, cote as vistas abaixo. Elas são as mesmas do exercício da aula anterior!

